

ESPACIO RESERVADO PARA
PEGAR LA ETIQUETA DEL
CÓDIGO DE BARRAS

PROCESO SELECTIVO PARA LA PROVISIÓN DE PLAZAS PARA EL PERSONAL LABORAL AL SERVICIO DE LA ADMINISTRACIÓN DE LA COMUNIDAD AUTÓNOMA DE EXTREMADURA, Orden de 15 de enero de 2016 (D.O.E. nº 12, de 20 de enero)

Tribunal de selección nº 4
Categoría: Encargado/a
Turno Ascenso

SEGUNDO EJERCICIO

CRITERIOS DE VALORACIÓN:

SUPUESTO Nº 1: 1,80 puntos.
SUPUESTO Nº 2: 1,80 puntos.
SUPUESTO Nº 3: 1 punto.
SUPUESTO Nº 4: 1,50 puntos.
SUPUESTO Nº 5: 1,40 puntos.
SUPUESTO Nº 6: 1,10 puntos.
SUPUESTO Nº 7: 0,50 puntos.
SUPUESTO Nº 8: 0,90 puntos.




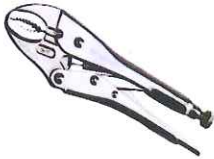


DURACIÓN: 75 MINUTOS

Mérida, 14 de Diciembre de 2016.



SUPUESTO Nº 1. (VALORACIÓN 1,80 PUNTOS)

Escriba, en los recuadros en blanco de la derecha, el nombre de cada una de las siguientes herramientas:



SUPUESTO Nº 2. (VALORACIÓN 1,80 PUNTOS)

A continuación aparece una tabla con simbología de lavandería. Escriba en los recuadros en blanco de la derecha el significado de cada símbolo:



SUPUESTO Nº 3. (VALORACIÓN 1 PUNTO)

Escriba, debajo de cada imagen, el nombre de los siguientes elementos sanitarios:

Fonendoscopio – otoscopio – electrocardiógrafo – pulsímetro – sistema de gotero – grúa de bipedestación – cama circular – sonda – silla de ruedas – cama articulada

SUPUESTO Nº 4. (VALORACIÓN 1,50 PUNTOS)

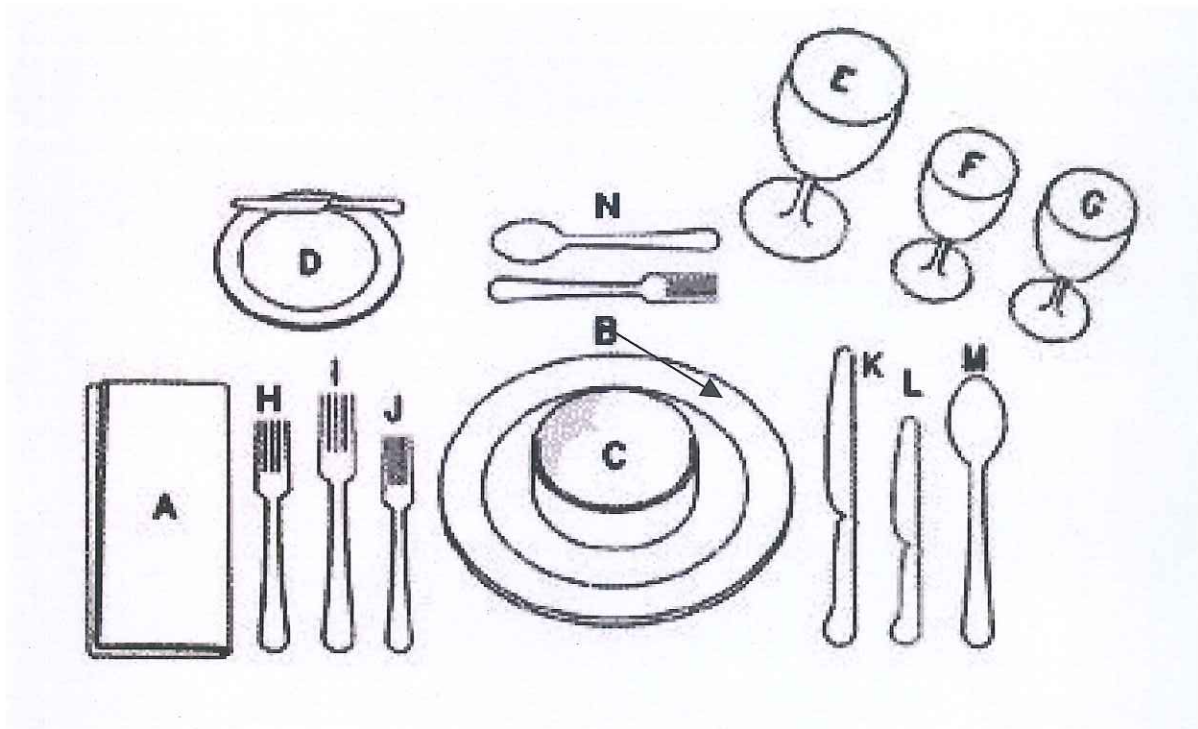
Escriba, según corresponda, los siguientes alimentos en las zonas en blanco de la tabla adjunta:

Agua de arroz, alcachofas, bebidas alcohólicas, cerveza, espinacas, leche entera, manzana rallada, pan blanco, yema de huevo, yogur.

	ALIMENTOS RECOMENDADOS	ALIMENTOS NO PERMITIDOS
DIETA LAXANTE		
DIETA ASTRINGENTE		
DIETA DEPRESORA DE COLESTEROL		
DIETA SIN GLUTEN		

SUPUESTO Nº 5. (VALORACIÓN 1,40 PUNTOS)

Identifique los elementos colocados en esta mesa, teniendo en cuenta el orden en que están dispuestos.

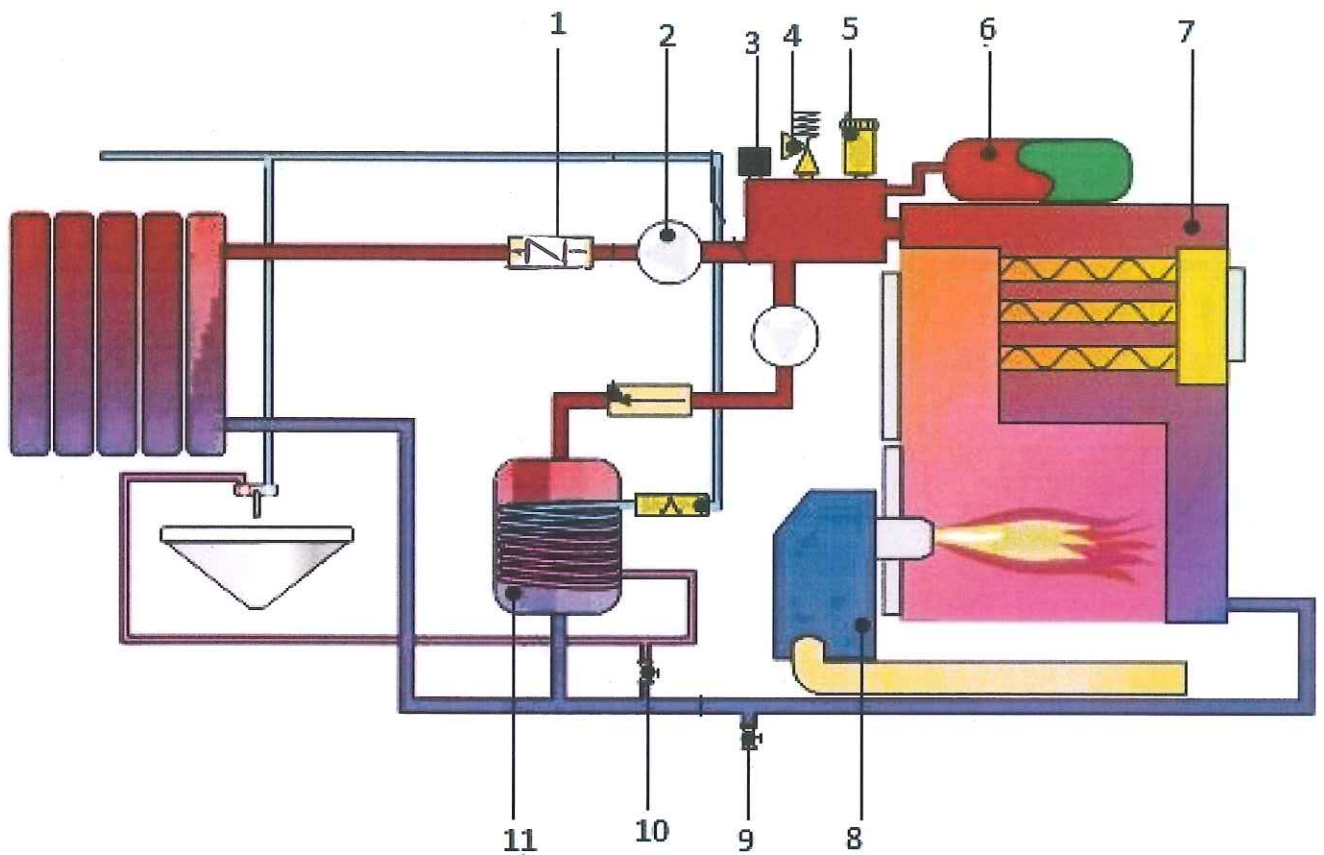


A		H	
B		I	
C		J	
D		K	
E		L	
F		M	
G		N	



SUPUESTO nº 6. (VALORACIÓN 1,10 PUNTOS)

Escriba en la tabla el número que corresponda a cada parte de este circuito de calefacción:





NUMERO	
	Bomba de calefacción
	Cuerpo de caldera
	Intercambiador
	Limitador de presión
	Llave de llenado
	Llave de vaciado
	Purgador automático
	Quemador
	Válvula de retención de calefacción
	Válvula de seguridad
	Vaso de expansión



SUPUESTO Nº 7. (VALORACIÓN 0,50 PUNTOS)

Escriba el nombre de cada uno de los siguientes aperos de labranza en el recuadro que hay a la derecha de cada imagen:



SUPUESTO Nº 8. (VALORACIÓN 0,90 PUNTOS)

A continuación se relacionan y numeran una serie de grupos de alimentos y de hábitos de vida:

- 1.-Frutas, verduras, hortalizas y aceite de oliva virgen extra.
- 2.-Carnes rojas, procesadas y embutidos.
- 3.-Bollerías, snacks, caramelos y grasas untables (mantequillas o margarinas).
- 4.-Actividad física diaria, Técnicas culinarias saludables y de 4 a 6 vasos de agua al día.
- 5.-Hidratos de carbono (pan, pasta, arroz, legumbres tiernas y patatas (vapor, horno o cocidas).
- 6.-Carnes blancas (pollo, pavo, conejo), pescados (blancos y azules, pero, sobre todo, de temporada), las legumbres, los huevos y frutos secos.

Escriba el número en el lugar que corresponda en la siguiente pirámide alimenticia:

