

COMUNIDAD AUTÓNOMA DE EXTREMADURA

**PRUEBAS SELECTIVAS DE PERSONAL FUNCIONARIO DEL CUERPO
SUBALTERNO/A DE LA ADMINISTRACIÓN DE LA COMUNIDAD AUTÓNOMA DE
EXTREMADURA.**

ESPECIALIDAD SUBALTERNO/A-CONDUCTOR/A

Orden de 27 de Diciembre de 2013 (D.O.E. núm. 249 de 30 de Diciembre)

SEGUNDA FASE DEL EJERCICIO
SUPUESTOS PRÁCTICOS.



SUPUESTO NÚM. 1

NEUMÁTICOS:

Siendo la nomenclatura de un neumático **MICHELIN PILOT EXALTO 185/55 R 15 82 V**, coloque los números de las definiciones correspondientes en cada parte de la nomenclatura:

- 1- Modelo que distingue el tipo de neumático dentro de la gama del fabricante y su diseño de la banda de rodadura.
- 2- Diámetro de las llantas en pulgadas.
- 3- Relación de aspecto o perfil medido en tanto por cien.
- 4- Neumático radial.
- 5- Índice de carga máxima que puede soportar el neumático
- 6- Código de velocidad máxima que puede soportar.
- 7- Anchura del neumático en milímetros.
- 8- Marca registrada del fabricante.

MICHELIN: → 8
PILOT EXALTO: → 1
185: → 7
55: → 3
R: → 4
15: → 2
82: → 5
V: → 6

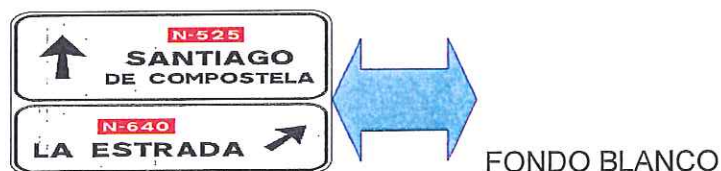
Puntuación del supuesto: Cada definición correcta 0,25 puntos. Puntuación máxima del supuesto 2 puntos.

SUPUESTO NÚM. 2

SEÑALES DE TRÁFICO:

De las siguientes señales, seleccione la respuesta correcta en cada uno de los apartados siguientes:

APARTADO A)



1) Indica, en una carretera convencional, las direcciones de los distintos ramales de la próxima intersección cuando uno de ellos conduce a una carretera convencional.

2) Indica las direcciones del ramal de la próxima salida y la distancia a la que se encuentra.




APARTADO B)



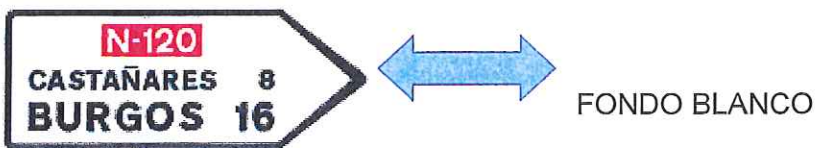
- 1) Indica las direcciones de los ramales de las dos salidas consecutivas de la autopista o autovía. La distancia de la segunda, el número de enlace y la letra de cada salida. También indica la dirección propia de la autopista o autovía.
- 2) Indica las direcciones de los ramales de las dos salidas consecutivas de la autopista o autovía, la distancia, el número de enlace y la letra de cada salida.

APARTADO C)



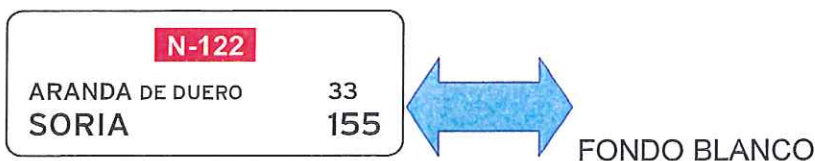
- 1) Indica, en autopista o autovía, la proximidad de una salida hacia una zona o área de servicio.
- 2) Indica, en autopista o autovía, la proximidad de una salida hacia una zona o área de servicio, y que ésta coincide con una salida hacia una o varias poblaciones.

APARTADO D)



- 1) Indica carreteras y poblaciones que se alcanzan en el sentido que indica la flecha.
- 2) Indica nombre de poblaciones situadas en un itinerario constituido por una carretera convencional y el sentido por el que aquellas se alcanzan

APARTADO E) Indique a qué grupo de señales de orientación pertenece la siguiente señal:



- 1) Dirección
- 2) Preseñalización
- 3) Localización
- 4) Confirmación
- 5) Señales de Identificación de Carreteras
- 6) Señales de Uso Específico en Poblado.

Puntuación del supuesto: Cada apartado correcto 0,40 puntos. Puntuación máxima del supuesto 2 puntos.

SUPUESTO NÚM. 3

INFRACCIONES

De las siguientes conductas que se relacionan seguidamente, señale que tipo de infracción es considerada como LEVE, GRAVE ó MUY GRAVE, según lo dispuesto en el Artículo 65 de la Ley sobre Tráfico, Circulación de Vehículos a Motor y Seguridad Vial:

A) Circular sin hacer uso del alumbrado reglamentario, salvo que el vehículo sea una bicicleta:

LEVE GRAVE MUY GRAVE

B) Participar en competiciones y carreras de vehículos no autorizados:

LEVE GRAVE MUY GRAVE

C) No respetar las señales de los Agentes que regulan la circulación:

LEVE GRAVE MUY GRAVE

D) Incumplir la obligación de todos los conductores de vehículos, y de los demás usuarios de la vía cuando se hallen implicados en algún accidente de tráfico o hayan cometido una infracción, de someterse a las pruebas que se establezcan para la detección de alcohol o de la presencia de drogas en el organismo:

LEVE GRAVE MUY GRAVE

E) Circular con un vehículo cuya carga ha caído a la vía, por su mal acondicionamiento, creando grave peligro para el resto de los usuarios:

LEVE GRAVE MUY GRAVE

F) La ocupación excesiva del vehículo que suponga aumentar en un 50% el número de plazas autorizadas, excluida la del conductor.

LEVE GRAVE MUY GRAVE

G) Conducir vehículos que tengan instalados inhibidores de radares o cinemómetros o cualquiera otros mecanismos encaminados a interferir en el correcto funcionamiento de los sistemas de vigilancia del tráfico:

LEVE GRAVE MUY GRAVE

H) Arrojar a la vía o en sus inmediaciones objetos que puedan producir incendios o accidentes, o que obstaculicen la libre circulación:

LEVE GRAVE MUY GRAVE



Puntuación del supuesto: Cada apartado correcto 0,25 puntos. Puntuación máxima del supuesto 2 puntos.

SUPUESTO NÚM. 4

CARRETERAS

De las siguientes localidades relacionadas seguidamente, señale con :

- 1- Las que pertenezcan al itinerario de la EX-104
- 2- Las que pertenezcan al itinerario de la EX-109
- 3- Las que pertenezcan al itinerario de la EX-204
- 4- Las que pertenezcan al itinerario de la EX-205
- 5- Las que no figuren en ninguno de los itinerarios anteriores.

PERALES DEL PUERTO	ITINERARIO NÚM. <u>2</u>
CEREZO	ITINERARIO NÚM. <u>4</u>
VALVERDE DEL FRESNO	ITINERARIO NÚM. <u>4</u>
CALZADILLA	ITINERARIO NÚM. <u>3</u>
TORRECILLA DE LOS ANGELES	ITINERARIO NÚM. <u>3</u>
BENQUERENCIA DE LA SERENA	ITINERARIO NÚM. <u>1</u>
LA GRANJA	ITINERARIO NÚM. <u>4</u>
ESPARRAGOSA DE LA SERENA	ITINERARIO NÚM. <u>5</u>
CABEZA DEL BUEY	ITINERARIO NÚM. <u>1</u>
BENQUERENCIA	ITINERARIO NÚM. <u>5</u>

Puntuación del supuesto: Cada itinerario correcto 0,20 puntos. Puntuación máxima del supuesto 2 puntos.



SUPUESTO Núm. 5 MECÁNICA

Coloque los siguientes elementos en el motor:

- Válvula
- Árbol de levas
- Biela
- Pistón
- Cigüeñal
-

Puntuación del supuesto: Cada elemento acertado 0,40 puntos.
Puntuación máxima del supuesto 2 puntos.

