

PROCESO SELECTIVO PARA LA PROVISIÓN DE PLAZAS
MEDIANTE **TURNO DE ASCENSO** PARA EL PERSONAL
LABORAL AL SERVICIO DE LA ADMINISTRACIÓN DE LA
COMUNIDAD AUTÓNOMA DE EXTREMADURA

Orden de 15 de enero de 2016
(D.O.E. nº 12, de 20 de enero de 2016)

Categoría: Camarero/a – Limpiador/a



Inserte aquí la pegatina
identificativa

Segundo Ejercicio

Ejercicio nº I (valoración máxima 1 punto)

Respecto a la conservación de alimentos perecederos o incluso para la elaboración y conservación de alimentos congelados, se utilizan los **generadores de frío**. Sabiendo esto y dependiendo de su **formato** y **uso**, hay que completar las celdas vacías que aparecen a continuación, escribiendo el objeto correcto según la definición que hay en la parte izquierda.

Para facilitar la ejecución del ejercicio, los nombres de los objetos a indicar se encuentran en el siguiente recuadro:

- | | |
|----------------------------------|-------------------------|
| - Abatidores de temperatura | - Mesas frigoríficas |
| - Arcón congelador | - Cámaras frigoríficas |
| - Fabricador de hielo | - Heladoras |
| - Fabricador de hielo en escamas | - Armarios frigoríficos |

DEFINICIÓN





OBJETO

Fijas, construidas con materiales de obra o bien modulares	→	CÁMARAS FRIGORÍFICAS
Son muebles destinados a la conservación de géneros a corto plazo, de uso inmediato o constantes	→	ARMARIOS FRIGORÍFICOS
Permiten la bajada rápida de temperatura de los alimentos inmediatamente después de haber sido cocinados	→	ABATIDORES DE TEMPERATURA
Zonas de trabajos de acero inoxidable y en su parte inferior tienen instalado un sistema frigorífico	→	MESAS FRIGORÍFICAS



Ejercicio nº 2 (valoración máxima 2 puntos)

Respecto al etiquetado de la ropa, se debe tener especial atención, entre otras cosas, al planchado. Cada uno de los símbolos que aparecen a continuación, viene identificado con un número del 1 al 4. Debe usted asignar a cada prenda el símbolo que le corresponda, mediante su número identificativo.









			
1	2	3	4

- ⊙ Faja..... 4
- ⊙ Pantalón de lino..... 3
- ⊙ Pantalón de lana 2
- ⊙ Vestido de seda natural..... 1
- ⊙ Pantis 4
- ⊙ Camisa de rayón 1
- ⊙ Falda de poliéster 2
- ⊙ Camisa de algodón..... 3



Ejercicio nº 3 (valoración máxima 2 puntos)

En el etiquetado de los productos utilizados en la limpieza, aparecen unos pictogramas que nos advierten sobre los distintos peligros a tener en cuenta. Estos peligros son los siguientes:

							
1	2	3	4	5	6	7	8

Atendiendo a la tabla superior expuesta, se ha asignado a cada pictograma un número identificativo. La finalidad del ejercicio es clasificar los distintos pictogramas según el tipo de peligro, anotando su número en los recuadros correspondientes:

Peligros Físicos 2, 3, 4, 8

Peligros para la Salud Humana 1, 6, 7

Peligros para el Medio Ambiente 5



Ejercicio nº 4 (valoración máxima 1,6 puntos)

Respecto de las definiciones que se muestran en la columna de la izquierda, usted las debe relacionar con las respuestas de la columna de la derecha, indicando el número que corresponda en el casillero de abajo.

DEFINICIONES		RESPUESTAS	
A	Vaso bajo y ancho que se usa para tomar vino	1	Rango
B	Trasvasar un vino a una vasija	2	Tostón
C	Lugar destinado al lavado de menaje	3	Chato
D	Conjunto de mesas asignadas a un camarero en el servicio de comedor	4	Saignant
E	Cafetera	5	Decantar
F	Rebanada de pan tostado y empapado en aceite	6	Desbarasar
G	Carne poco hecha	7	Cona
H	Desmontar una mesa	8	Office

A	B	C	D	E	F	G	H
3	5	8	1	7	2	4	6



Ejercicio nº 5 (valoración máxima 2 puntos)

Los Camareros-Limpiadores tienen que llevar a cabo una limpieza exhaustiva de determinadas dependencias del centro. Indique si las siguientes afirmaciones son verdaderas o falsas, marcando con una **X** en el casillero correspondiente, **V** (VERDADERO) o **F** (FALSO).

	V	F
Para limpiar la impresora se utilizará un producto que lleve amoníaco		X
Para la limpieza exterior de un ordenador se recomienda utilizar productos antiestáticos	X	
La superficie del auricular y el micrófono del teléfono se frotarán con alcohol	X	
Las manchas de insectos en los cristales se eliminan con esencia de trementina		X
Las manchas de café en un suelo de mármol se pueden limpiar con lejía	X	
Para la limpieza de un suelo de goma se recomienda usar lejía		X
Para evitar el agrietamiento del cuero de un sillón utilizaremos, periódicamente, una crema incolora a la silicona	X	
Para limpiar un sillón de cuero aplicaremos una mezcla de esencia de trementina y cera de abeja	X	
Las bombillas halógenas se limpian con agua y un poco de amoníaco		X
Para abrillantar un marco de plata podemos utilizar alcohol de quemar	X	

Ejercicio nº 6 (valoración 1,4 puntos)

Si le indican que limpie una **plancha de cocina** a fondo, enumere del 1 al 5, por orden ascendente, los pasos correctos a seguir en la realización:

- ⊙ Pasar un paño ligeramente impregnado en aceite o mantequilla..... 5
- ⊙ Mojar toda la superficie con un poco de vinagre..... 1
- ⊙ Desconectar y raspar a fondo con la espátula o cuchillo..... 3
- ⊙ Conectar la plancha para que se caliente y actúe el vinagre..... 2
- ⊙ Restregar con un polvo abrasivo o con esponja de aluminio..... 4

